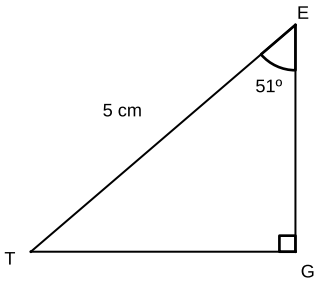


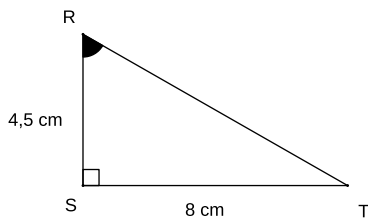
Devoir n°10 - Trigonométrie - 3ème

31 mars 2022 - 30 min

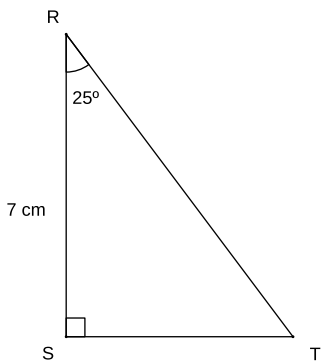
Exercice 1 (2,5 pts) : Calculer un arrondi au mm près de TG .



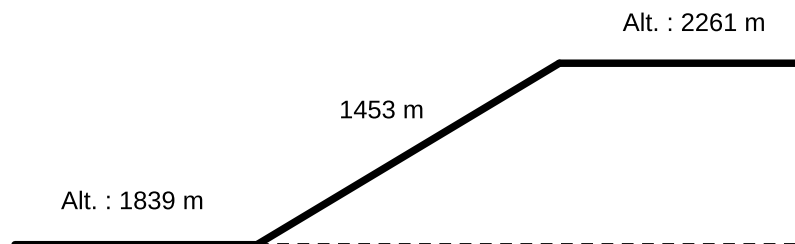
Exercice 2 (2,5 pts) : Calculer la mesure de l'angle \widehat{SRT} arrondie au degré près.



Exercice 3 (2,5 pts) : Calculer un arrondi au mm près RT .



Exercice 4 (2,5 pts) : Dans une station de ski, on peut lire les informations suivantes sur un télésiège.



Calculer l'angle formé par le câble du télésiège avec l'horizontale (arrondir au degré près).