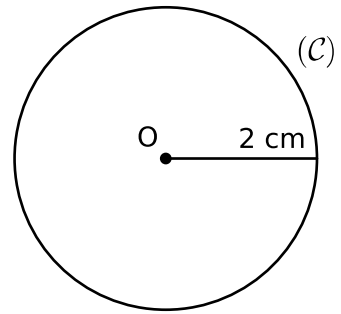
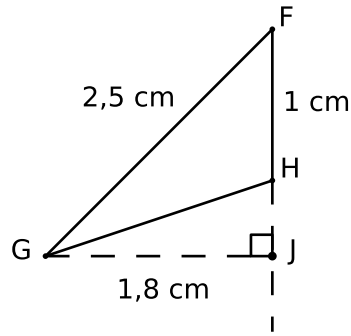
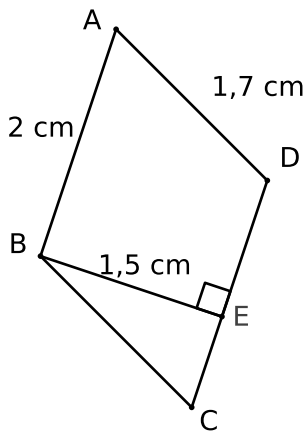


Calculs d'aires - 5ème - 11 juin 2014 - 15 min



Calculer l'aire du parallélogramme $ABCD$, l'aire du triangle FGH et du disque (\mathcal{C}) .

Donner les trois formules avec les lettres (expressions littérales),
puis les valeurs exactes de chacune des aires.

On prendra $\pi \simeq 3,14$ pour donner une valeur approchée du disque.