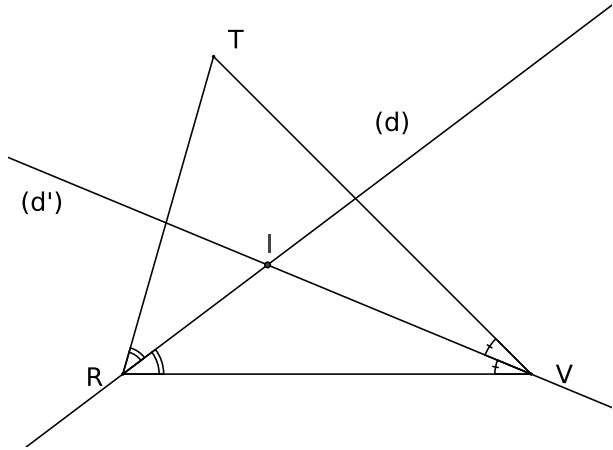


# Devoir n°12 - Droites du triangle - 4ème

30 avril 2015 - 20 min

Pour chacun des triangles, dire ce que représentent la droite  $(d)$  et le point  $I$  en justifiant.



Dans le triangle  $RTV$ ,

$(d)$  est la .....

.....

car .....

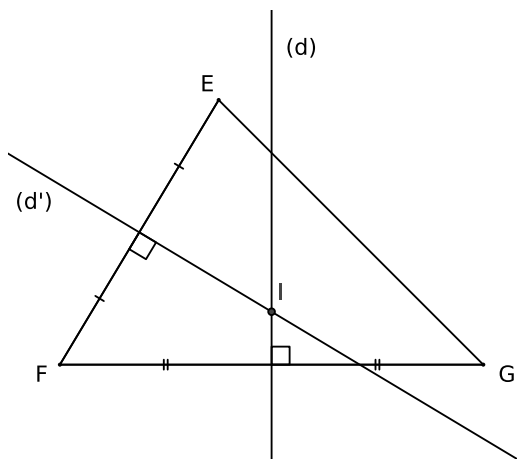
.....

Le point  $I$  est .....

.....

car c'est l'intersection de.....

.....



Dans le triangle  $EFG$ ,

$(d)$  est la .....

.....

car .....

.....

Le point  $I$  est .....

.....

car c'est l'intersection de.....

.....

Dans le triangle  $ABC$ ,

$(d)$  est la .....

.....

car .....

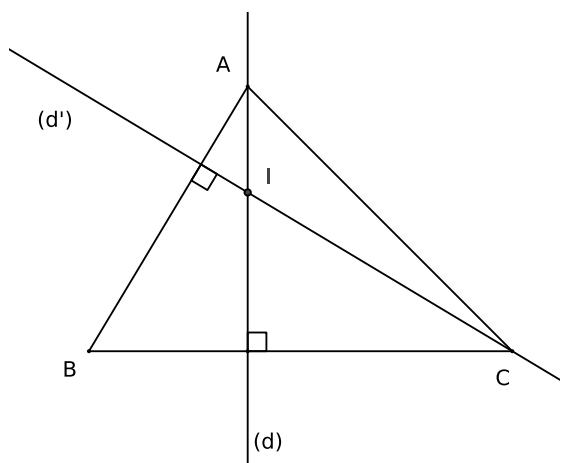
.....

Le point  $I$  est .....

.....

car c'est l'intersection de .....

.....



Dans le triangle  $STU$ ,

$(d)$  est la .....

.....

car .....

.....

Le point  $I$  est .....

.....

car c'est l'intersection de.....

.....

