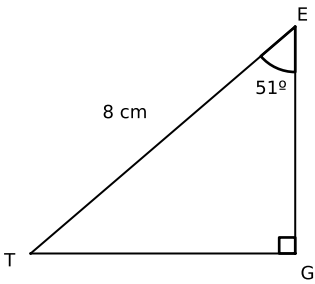


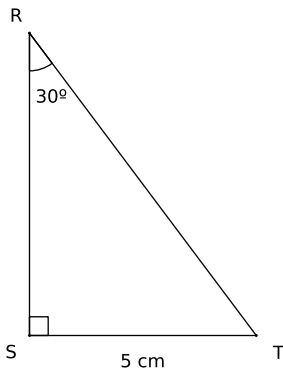
Devoir n°10 -Trigonométrie - 3ème

25 mars 2021 - 30 min

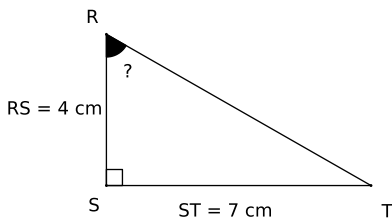
Exercice 1 (2,5 pts) : Calculer un arrondi au mm près de EG .



Exercice 2 (2,5 pts) : Calculer RT .



Exercice 3 (2,5 pts) : Calculer la mesure de l'angle \widehat{SRT} au degré près.



Exercice 4 (2,5 pts) : Calculer la mesure de l'angle \widehat{IJK} au degré près.

